


## 附件3.

### 工作紙1

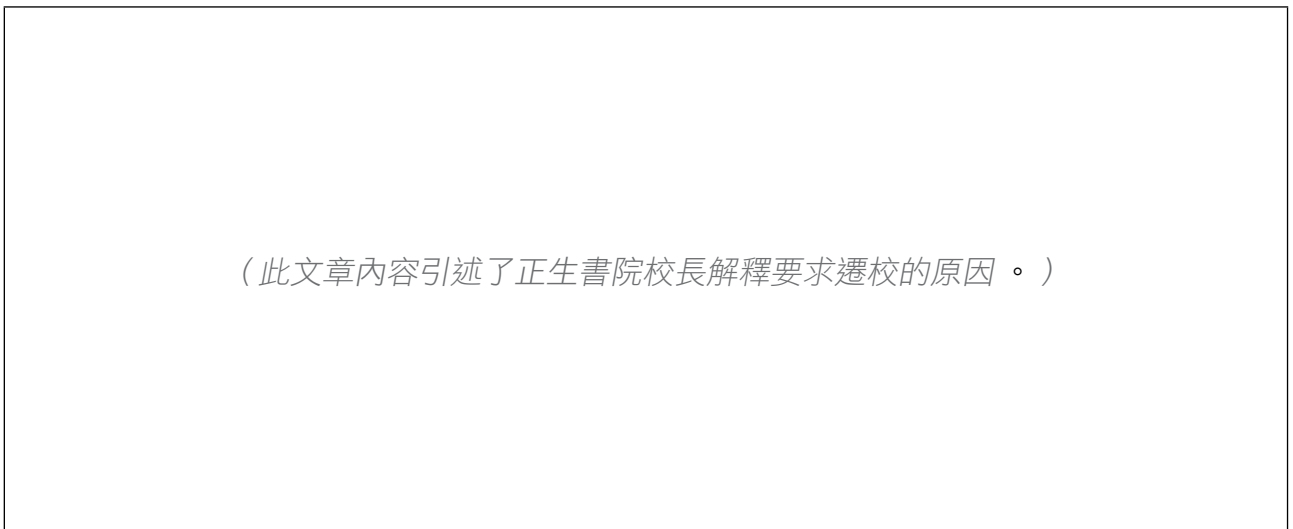
每組同學請分成兩組，試參考資料一至五，分別完成工作紙1A和1B。

#### 資料一




資料來源：明報，2009年6月29日。

#### 資料二




資料來源：基督教正生書院的網誌，[http://www.facebook.com/note.php?note\\_id=384610761719](http://www.facebook.com/note.php?note_id=384610761719)。

### 資料三



資料來源：明報，2009年6月16日。

### 資料四



資料來源：明報，2009年6月8日。

## 資料五

特首曾蔭權 昨開腔「撐」正生，呼籲市民包容。

資料來源：明報，2009年6月16日。

## 工作紙1A

試參考資料一至五，找出正生書院要求遷校梅窩的理由。

### 角色A：正生書院

<p>正生書院要求遷校 梅窩的理由：</p>	
----------------------------	--

## 工作紙1B

試參考資料一至五，找出梅窩居民及離島區議會對正生書院遷校梅窩的立場和所持的理由。

### 角色B：梅窩居民及離島區議會

對正生書院 遷校梅窩的立場	
所持的理由	